

## اصل سوالات آزمون استخدامی

# کار و تامین ۱۴۰۱

- ✓ اصل سوالات آزمون کار و تامین برگزار شده در سال ۱۴۰۱
- ✓ نسخه رایگان شامل ۷۵ سوال به همراه کلید سوالات در انتهای جزوه
- ✓ مجری آزمون: سنجش

## لینک های مفید آزمون استخدامی کار و تامین

خرید این محصول	خرید سوالات تامین اجتماعی
سوالات دروس عمومی آزمون های استخدامی (۱۰ سال اخیر)	درسنامه دروس عمومی آزمون های استخدامی
خرید سوالات مصاحبه و گزینش	منابع آزمون
اخبار آزمون	شبکه های اجتماعی ایران عرضه (فایل های رایگان + تخفیفات هفتگی + اخبار)
(برای مشاهده هر بخش روی آن بزنید  )	
<p><b>آخرین بروزرسانی ها:</b></p> <p>۱۴۰۴/۰۸/۱۳ تالیف مجدد محصول</p>	

## فهرست مطالب

❖ فصل اول: سوالات آزمون استخدامی کار و تامین ۱۴۰۱ - صفحه ۴ ( ۷۵ سوال )

فناوری اطلاعات - احکام و معارف اسلامی - زبان و ادبیات فارسی - اطلاعات عمومی، دانش  
اجتماعی و قانون اساسی - ریاضی و آمار مقدماتی - شناخت تامین اجتماعی - هوش و توانمندی  
های ذهنی

❖ فصل دوم: کلید سوالات آزمون استخدامی کار و تامین ۱۴۰۱ - صفحه ۱۵



## ❖ سوالات آزمون استخدامی کار و تامین ۱۴۰۱

## ◀ فناوری اطلاعات

راهنمایی: با توجه به شکل زیر به سوال های ا تا ۵ پاسخ دهید.

B2										project A
	A	B	C	D	E	F	G	H	I	
۱		category.year	۲۰۱۰	۲۰۱۱	۲۰۱۲	۲۰۱۳	۲۰۱۴	۲۰۱۵		
۲		project A	۱۰۰۰۰	۱۰۳۵۱	۱۱۲۱۲	۱۱۷۲۴	۱۱۷۳۲	۱۲۱۵۱		
۳		project B	۵۰۰۰	۵۸۹۱	۶۵۵۷	۶۹۳۲	۷۸۰۲	۷۹۰۹		
۴		project C	۲۵۰۰	۲۷۲۱	۳۰۲۲	۳۹۸۹	۴۷۴۶	۵۲۳۸		
۵		project D	۲۵۰۰	۳۳۶۵	۳۳۹۳	۳۹۶۳	۴۷۴۶	۴۹۵۶		
۶										

۱- در صورتی که بخواهیم عملیات مرتب سازی و فیلتر به درستی کار کند، نوع داده سلول انتخاب شده، کدام باید باشد؟

Percentage (۱)      Currency (۲)      Text (۳)      Time (۴)

۲- حاصل ( ۲۰۱۱، ۲۰۱۰، IF(C2> D2، ۲۰۱۰) کدام است؟

(۱) ۲۰۱۱      (۲) ۲۰۱۲      (۳) #VALUE!      (۴) REE

۳- وجود در کنار سلول  ها به چه معناست؟

(۱) فقط Sort      (۲) فقط Filter

(۳) sort and filter      (۴) امکان اضافه کردن سلول جدید

۴- واحد سرعت انتقال داده در شبکه اینترنت، کدام است؟

(۱) Mpps      (۲) hps      (۳) ppm      (۴) bps

۵- ایمیلی که از طریق نرم افزار Microsoft Outlook به آدرس info@sanjesh.org ارسال شده است کدام مورد در

خصوص این ایمیل در سمت گیرنده، صحیح است؟

## ◀ احکام و معارف اسلامی

۶- وجود کدام خصوصیت در عمل، به آن روح می بخشد؟

(۱) حفظ صورت عمل      (۲) حسن فعلی

(۳) قصد و نیت خالص      (۴) اخلاص در اندیشه

۷- توحید عبادی در فرد و در جامعه، به ترتیب، به کدام صورت تجلی پیدا می کند؟

(۱) اعتقاد خالص به خدا داشتن- اطاعت از پیامبر(ص)

(۲) اعتقاد خالص به خدا داشتن \_ تحقق قسط و عدالت

۳) پرستش و اطاعت از خدا- اطاعات از پیامبر (ص)

۴) پرستش و اطاعت از خدا -تحقق قسط و عدالت

۸- از آیه شریفه (( حتی اذا جا احدثهم الموت قال رب ارجعون...)) کدام مفهوم دریافت می گردد؟

۱) تحقق مرگ فعالیت آگاهانه روح با جسم دوام می یابد

۲) با تحقق مرگ فعالیت آگاهانه روح همچنان ادامه دارد

۳) مرگ پایان بخش همه آرزوهای تحقق نیافته است

۴) اعمال نادرست انجام شده، قابل جبران نیست

۹- گذشته سرخ و آینده سبز به ترتیب از عوامل پویایی کدام جامعه است وافرادش موصوف به چه وصفی اند ؟

۱) توحیدی- منتظر ۲) شیعه - منتظر ۳) توحیدی - معترض ۴) شیعه -معترض

۱۰- باتوجه به آیه شریفه «الم تجعل الذين امنوا و عتقوا الصادقات فالمفسدين من في الارض» کدام مورد تحقق می یابد؟

۱) تمایلات و گرایش های انسان ها با قراردادن پاسخ مناسب آنها در جهان آخرت

۲) رشد و شکوفایی استعدادها و سرمایه های مختلف به وجود نهاده شده در انسان

۳) اراده الهی در واقعه بزرگ و با عظمت معاد باتوجه به قدرت خداوند

۴) وعده های خداوند در دستیابی همه انسان ها به نتایج اعمالشان

۱۱- به ترتیب، در کدام مرحله زیر، نیکوکاران و بندگان تمایز اساسی پیدا می کنند و بدکاران برای نجات خویش از مهلکه

قیامت، به چه روشی متوسل می شوند؟

۱) دادن نامه اعمال- نامه حسرت و توبه ۲) حضور شاهدان - نامه حسرت و توبه

۳) دادن نامه اعمال- سوگند دروغ ۴) حضور شاهدان- سوگند دروغ

۱۲- تصرف در عالم خلقت به اذن خداوند، نشانه وصول به کدام مرتبه ولایت است؟

۱) تشریعی ۲) ظاهری ۳) معنوی ۴) جزایی

۱۳- عبارت «من كنت مولا فلهذا على مولا» به دنبال ابلاغ کدام آیه شریفه بیان شد؟

۱) «يا ايها الذين امنوا اطيعوا الله و اطيعوا الرسول و ...»

۲) «انما يزيده الله ليذهب عنكم الرجس اهل البيت...»

۳) «انما وليكم الله و رسوله و الذين امنوا الذين ...»

۴) «يا ايها الرسول ينعم ما انزل اليك من ربك ...»

۱۴- به ترتیب، چه کسی خلافت را به سلطنت تبدیل کرد و کدام جنگ را علیه امیرالمومنین علی (ع) به راه انداخت؟

۱) معاویه - صفین ۲) ابوسفیان- صفی

۳) معاویه - جمل ۴) ابوسفیان- جمل

۱۵- کدام یک، به ترتیب، جزو «حق رهبر بر مردم» و «حق مردم بر رهبر» است؟

- (۱) استقامت و پایداری در برابر مشکلات - حفظ استقلال کشور
- (۲) تلاش برای اجرای احکام و دستورات الهی - حفظ استقلال کشور
- (۳) استقامت و پایداری در برابر مشکلات - مشارکت در نظارت همگانی
- (۴) تلاش برای اجرای احکام و دستورات الهی- مشارکت در نظارت همگانی

## زبان و ادبیات فارسی

۱۶- در کدام عبارت «کژتابی» مشهود است؟

- (۱) آثار ادبی ایران آیین اندیشه ها، هنرمندی ها و عظمت روحی و معنوی ملت ایران است.
- (۲) صدایی که به گوشم رسید حزین ترین و عاشقانه ترین لحنی بود که در عمرم شنیده بودم.
- (۳) عبور هواپیما از روی دریای مدیترانه همیشه آدمی را غرق دریای تصورات تاریخی می کند.
- (۴) در زمینه تعلیم و تربیت مسئولین دانشگاه ها با دانشجویان مثل کودکان برخورد می کنند.

۱۷- کدام صفت ها به ترتیب «فاعلی، مفعولی و نسبی» است؟

- (۱) درخشنده- سیمینه- آشامیدنی
- (۲) شکسته- ستودنی- آهنین
- (۳) روشنگر- پرورده- کودکانه
- (۴) آسمانی- سازنده- عقلانی

۱۸- نقش قسمت های مشخص شده، به ترتیب، کدام است؟

« جو فروش است آن نگار سنگدل با من او گندم نمایی می کند»

- (۱) مسند- نهاد- متمم
- (۲) نهاد- متمم- مضاف الیه
- (۳) نهاد- مسند- متمم
- (۴) مسند- متمم- مضاف الیه

۱۹- معنی کدام واژه، (نادرست) است؟

- (۱) مسحور: شیفته
- (۲) دها: گستاخ
- (۳) مسامحه: ساده انگاری
- (۴) رُستن: رها شدن

۲۰- در کدام گروه کلمه، ((غلط املایی)) وجود دارد؟

- (۱) مسخر و مطیع کردن - میغ و سحاب - موهبت و دهش
- (۲) مبهوت و متحیر - گیاه مگیلان - فراست و هوش
- (۳) هیاهو و غوغا - ملحق و پیوسته شده - آذرخش و صائقه
- (۴) خوض نمودن و تفکر- حزن و اندوه - صنع و آفرینش

۲۱- پدید آورنده هر یک از آثار رو به رو، به ترتیب چه کسی است؟ (( روضه خلد - مخزن الاسرار - چهار مقاله ))

- (۱) مجد خوافی- نظامی گنجه ای - نظامی عروضی



۲) مجد خوافی - نظامی عروضی - خواجه نصیر الدین توسی

۳) عنصرالمعالی کیکاووس- نظامی گنجه ای - محمد بن منور

۴) خواجه نصیر الدین توسی - سعد الدین وراویسی - نظامی گنجه ای

## ۲۲- ایران عرضه کدام بیت، ((فاقد)) آرایه ایهام است؟

- ۱) چون جام شفق موج زند خون به دل من  
با این همه دور از تو مرا چهره زردی است
- ۲) بی مهر رخت روز مرا نور نمانده است  
وز عمر مرا جز شب دیجور نمانده است
- ۳) باز آ که در فراق تو چشم امیدوار  
چون گوش روزه دار بر الله اکبر است
- ۴) عنایتی که تو را بود اگر مبدل شد  
خلل پذیر نباشد ارادتی که مراست

## ۲۳- معنی عبارت ((اجل ناآمده، مردم را حسد بکشد))، کدام است؟

- ۱) انسان حسود، مردم را قبل از اینکه مرگشام فرا برسد، می کشد
- ۲) حسادت باعث مرگ مردم می شود، قبل از اینکه مرگشان فرا برسد
- ۳) حسادت همچون اجل معلق مردم را از پای در می آورد و نابود میکند.
- ۴) مادام که انسان زنده باشد و اجالش فرانسیده، حسادت انسان هارا به طرف خود می کشد

## ۲۴- در بیت زیر، شاعر چه امری را نکوهش می کند؟

- ((چو کاری بی فضول من برآید  
مرا در وی سخن گفتن نشاید))
- ۱) سکوت      ۲) دخالت بی جا      ۳) خودنمایی      ۴) سخن گفتن

## ۲۵- مفهوم کدام بیت، با سایر ابیات، تفاوت دارد؟

- ۱) نشستنی به جای دگر کس بسی  
نشیند به جای تو دیگر کسی
- ۲) چو از چابکان در دویدن گرو  
نبردی هم افتادن وخیزان برو
- ۳) به غفلت بدادی ز دست آب پاک  
چه چاره کنون جز تیمم به خاک
- ۴) گر آن بادپایان برفتند تیز  
تو بی دست و پای از نشستن بخیز

## ۲۶- نقش برجسته گل گل از جاذبه های گردشگری کدام استان کشور است؟

- ۱) ایلام      ۲) کرمانشاه      ۳) فارس      ۴) بوشهر

## ◀ اطلاعات عمومی، دانش اجتماعی و قانون اساسی

## ۲۶- نقش برجسته گل گل از جاذبه های گردشگری کدام استان کشور است؟

- ۱) ایلام      ۲) کرمانشاه      ۳) فارس      ۴) بوشهر

## ۲۷- در قانون اساسی در خصوص کدام مقام زیر تصریح شده است که باید مجتهد، عادل و آگاه به امور قضائی باشد؟

- ۱) رئیس دیوان عالی کشور      ۲) رئیس دیوان محاسبات کشور

(۳) رئیس سازمان بازرسی کل کشور (۴) رئیس دیوان عدالت اداری

۲۸- آبشار سیمک، از جاذبه های طبیعی کدام استان است؟

(۱) اصفهان (۲) کرمان (۳) خراسان جنوبی (۴) سیستان و بلوچستان

۲۹- ترکیب بند با مطلع «باز این چه شورش است که در خلق عالم است»، از کدام شاعر مرثیه سرای قرن دهم هجری است؟

(۱) وحشی بافقی (۲) خاقانی شروانی (۳) محتشم کاشانی (۴) هاتف اصفهانی

۳۰- آخرین دوره انتخابات مجلس شورای اسلامی، در چه سالی برگزار شد؟

(۱) ۱۴۰۰ (۲) ۱۳۹۹ (۳) ۱۳۹۸ (۴) ۱۳۹۷

۳۱- کدام شخص، از فرماندهان لشکر ۲۷ محمد رسول الله است که پس از آزادی خرمشهر، به همراه هیئتی رسمی از

مسئولان سیاسی و نظامی به سوریه اعزام شد؟

(۱) محمد جهان آرا (۲) احمد متوسلیان (۳) محسن ریاضی (۴) علی صیاد شیرازی

۳۲- حرم مطهر حضرت علی (ع)، در کدام شهر است؟

(۱) سامرا (۲) کوفه (۳) کاظمین (۴) نجف

۳۳- کدام مورد زیر، مصداق تفویض اختیار قانون گذاری مجلس شورای اسلامی به دولت به شمار می آید؟

(۱) امکان تصویب آیین نامه های اجرایی (۲) امکان تصویب آیین نامه های مستقل

(۳) اجازه تصویب اساسنامه سازمان های دولتی (۴) صلح دعاوی راجع به اموال عمومی و دولتی

۳۴- براساس آخرین اساسنامه سازمان تأمین اجتماعی، مدیرعامل آن، چگونه انتخاب می شود؟

(۱) با حکم وزیر تعاون، کار و رفاه اجتماعی (۲) با تصویب هیئت وزیران

(۳) با رأی هیئت مدیره سازمان (۴) با نظر رئیس جمهور

۳۵- در قانون اساسی، از «شوراها» با چه عنوانی یاد شده است؟

(۱) واحدهای بنیادی جمهوری اسلامی

(۲) ارکان تصمیم گیری و اداره امور کشور

(۳) فضای مشارکت عامه مردم در تعیین سرنوشت

(۴) وسیله جلب همکاری در تهیه برنامه ها و هماهنگی امور

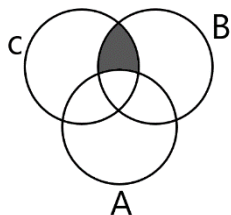
## ریاضی و آمار مقدماتی

۳۶- حاصل عبارت  $\frac{3^4}{9^{-1}} \div \frac{3^2}{\sqrt{81}}$  کدام است؟

(۱) ۷۲۹ (۲) ۲۴۳ (۳) ۸۱ (۴) ۲۷



۳۷- کدام مجموعه زیر برابر ناحیه هاشور خورده در نمودار ون رو به رو است؟



(۱)  $B \cap C$

(۲)  $A \cap B \cap C$

(۳)  $(B \cap C) - A$

(۴)  $A - (B \cap C)$

۳۸- اگر  $f\left(X + \frac{1}{X}\right) = X^3 + \frac{1}{X^3}$  باشد مقدار  $f(4)$  کدام است؟

(۱) ۶۴ (۲) ۶۲ (۳) ۵۸ (۴) ۵۲

۳۹- در یک دنباله حسابی که جمله اول برابر ۲۰۸ و قدر نسبت ۴- است، عدد صفر، جمله چندم این دنباله است؟

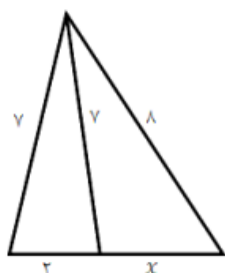
(۱) ۵۴ (۲) ۵۳ (۳) ۵۲ (۴) ۵۱

۴۰- مقادیر  $\alpha, \beta$  ریشه های معادله  $X^2 + 5X - 2 = 0$  هستند.

اگر  $\alpha > 0$  حاصل  $|A + 2B| + |A| - |B|$  کدام است؟

(۱)  $-2\alpha - 3\beta$  (۲)  $\alpha + 3\beta$  (۳)  $-2\alpha$  (۴)  $\beta$

۴۱- مقدار  $x$  در شکل رو برو کدام است؟



(۱)  $\frac{4}{5}$

(۲) ۴

(۳)  $\frac{3}{5}$

(۴) ۳

۴۲- چند عدد ۴ رقمی زوج بدون تکرار ارقام، میتوان نوشت که با رقم فرد شروع می شود؟

(۱) ۱۲۰۰ (۲) ۱۴۰۰ (۳) ۲۰۱۶ (۴) ۲۵۲۰

۴۳- در جدول فراوانی زیر، درصد فراوانی تجمعی دسته سوم کدام است؟

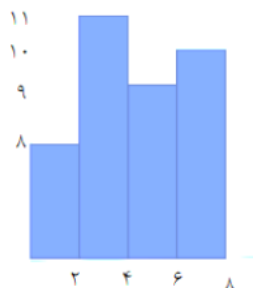
حدود	۶-۳	۹-۶	۱۲-۹	۱۵-۱۲	۱۸-۱۵
دسته ها					
فراوانی	۴	۱	۷	۳	۵

(۱) ۳۵

(۲) ۴۰

(۳) ۶۰

(۴) ۷۵



۴۴- میانگین داده های آماری نمودار مستطیلی روبرو کدام است؟

(۱) ۳/۱۲

(۲) ۳/۴۵

(۳) ۴/۱۱

(۴) ۴/۰۱

۴۵- داده های یک جامعه آماری 0.5 - 0.8 - 0.9 - 1 است. واریانس این داده ها کدام است؟

(۴) ۰/۳۵

(۳) ۰/۳۵۰

(۲) ۰/۲۵

(۱) ۰/۲۵۰۰

## شناخت تامین اجتماعی

۴۶- بهینه سازی گردش کار مربوط به ارائه خدمات و تعهدات کوتاه مدت بیمه شدگان با جلب رضایتمندی آنان و با رعایت

کامل اصول و قوانین بیمه ای، به کدام قسمت مربوط می شود؟

(۱) امور اداری و خدمات عمومی و رفاه (۲) نام نویسی و حساب های انفرادی

(۳) امور فنی مستمری ها (۴) امور بیمه شدگان

۴۷- به ترتیب، اساسنامه سازمان تامین اجتماعی، به تایید و تصویب کدام مرجع رسیده است؟

(۱) مجلس شورای اسلامی - شورای عالی رفاه و تامین اجتماعی

(۲) شورای عالی رفاه و تامین اجتماعی - هیئت وزیران

(۳) وزارت تعاون، کار و رفاه اجتماعی - هیئت وزیران

(۴) هیئت وزیران - مجلس شورای اسلامی

۴۸- تکیه گاه اصلی سازمان تامین اجتماعی، کدام مورد است؟

(۱) مشارکت دوجانبه بیمه شدگان و کارفرمایان

(۲) مشارکت دوجانبه سازمان های کارگری و کارفرمایی

(۳) مشارکت سه جانبه کارفرمایان، بیمه شدگان و دولت

(۴) مشارکت چهارجانبه دولت، سازمان های کارگری و کارفرمایی و مجلس شورای اسلامی

۴۹- چند نفر از اعضای هیئت امنای سازمان تامین اجتماعی با پیشنهاد وزیر تعاون، کار و رفاه اجتماعی و با تصویب شورای

عالی رفاه و تامین اجتماعی تعیین می شوند؟

(۴) ۳

(۳) ۴

(۲) ۶

(۱) ۹

۵۰- «تعیین اعضای هیئت مدیره شرکت ها و موسسات تابع، بدون واسطه و هلدینگ های زیرمجموعه»، وظیفه کدام یک از

ارگان سازمان تامین اجتماعی است؟

(۴) هیئت مدیره

(۳) هیئت نظارت

(۲) هیئت امنای

(۱) مدیرعامل

۵۱- تصمیمات اعضای هیئت مدیره سازمان تأمین اجتماعی، با رأی موافق حداقل چند نفر از اعضای حاضر، معتبر خواهد بود؟

- ۵ (۱) ۴ (۲) ۳ (۳) ۲ (۴)

۵۲- انتخاب نمایندگان سازمان جهت حضور در مجامع مؤسسات و شرکت هایی که تمام یا قسمتی از سهام آنها متعلق به سازمان می باشد. از وظایف کدام رکن سازمان تأمین اجتماعی است؟

- ۱) هیئت مدیره ۲) هیئت امناء ۳) هیئت نظارت ۴) مدیرعامل

۵۳- طراحی و تدوین راهبردها و استراتژی های سرمایه گذاری، جمع آوری تمامی آمار و اطلاعات مربوط به دارایی ها و ذخایر سازمان و متعاقب آن، تلاش در جهت مکانیزه نمودن اطلاعات و به روزرسانی مستمر آنها، از مهم ترین اهداف کدام معاونت سازمان تأمین اجتماعی است؟

- ۱) فنی و درآمد ۲) امور استان ها

- ۳) حقوقی و امور مجلس ۴) امور اقتصادی و برنامه ریزی

۵۴- «غرامت نقص عضو مقطوع» و «کمک هزینه اولاد»، به ترتیب، جزو کدام نوع تعهدات سازمان تأمین اجتماعی است؟

- ۱) بلند مدت- بلند مدت ۲) کوتاه مدت- بلند مدت

- ۳) کوتاه مدت- کوتاه مدت ۴) بلند مدت- کوتاه مدت

۵۵- «کمیسیون های پزشکی تجدیدنظر» و «فعالیت های مربوط به کلینیک های طب کار، به ترتیب، جزو کدام اداره کل درمان است؟

- ۱) مستقیم - مستقیم ۲) مستقیم - غیرمستقیم

- ۳) پشتیبانی - پشتیبانی ۴) غیرمستقیم- غیرمستقیم

## هوش و توانمندی های ذهنی


راهنمایی: هرکدام از سوال های ۱۱ تا ۱۶ را به دقت بخوانید و جواب هر سوال را در پاسخنامه علامت بزنید.

۵۶- در هر کدام از اشکال زیر، بین اعداد ارتباط خاص و مشترکی برقرار است. به جای علامت سوال کدام عدد باید قرار بگیرد؟



- ۳ (۱) ۶ (۲) ۷ (۳) ۹ (۴)

۵۷- در شکل زیر، یک مستطیل که نسبت اضلاع آن ۴ به ۹ است دیده می شود که به ۱۲ قسمت مساوی تقسیم شده است. هرکدام از مستطیل های کوچک، چه نسبت اضلاعی دارد؟



(۱) ۲ به ۴ (۲) ۴ به ۹ (۳) ۹ به ۱۲ (۴) ۱۶ به ۲۷

۵۸- کودکی با ۵۰ مدادرنگی، تعدادی مثلث جدا از هم ساخته است. حداکثر تعداد اشکالی که کودک با این تعداد مداد رنگی می تواند بسازد، کدام است؟

(۱) ۱۶ (۲) ۱۵ (۳) ۱۴ (۴) ۱۳

۵۹- چند عدد دورقمی وجود دارد که اگر ۵ به آن اضافه شود، مضرب ۱۲ می شود؟

(۱) ۱۰ (۲) ۹ (۳) ۸ (۴) ۷

۶۰- در یک گزارش از عملکرد یک کارمند، آمده است که در سال جاری نسبت به سال قبل، وی تعداد روزهایی که سرکار بوده را ۲۰ درصد افزایش داده و به ۱۹۲ روز رسانده است. وی سال قبل، چند روز کار کرده است؟

(۱) ۱۵۲ (۲) ۱۶۰ (۳) ۱۷۵ (۴) ۱۸۰

۶۱- به ازای هر ۵ روزی که علی از اداره اش مرخصی گرفته، محمد ۹ روز مرخصی گرفته است. اگر این دو نفر روی هم ۷۰ روز مرخصی گرفته باشند، حداقل چند روز علی سر کار و محمد در مرخصی بوده است؟

(۱) ۲۸ (۲) ۲۴ (۳) ۲۰ (۴) ۱۶

راهنمایی: اطلاعات زیر را بخوانید و باتوجه به آن، به سوال های ۱۷ تا ۲۰ که در زیر آن آمده است، پاسخ دهید و در پاسخنامه علامت بزنید.

شرکتی برای تأمین کادر اداری خود، با هفت نفر به اسامی A, B, C, D, E, F و G مصاحبه کرده، سپس آنها را برحسب عملکردشان مرتب نموده و ۴ نفر اول را قبول و ۳ نفر آخر را رد اعلام می کند. اطلاعات زیر، درخصوص این افراد و وضعیت مصاحبه شان موجود است.

- B و E یا هر دو قبول می شوند یا هر دو رد.

- A و G، یکی قبول و دیگری رد می شود.

- عملکرد D در مصاحبه، از C بهتر است.

۶۲- اگر C قبول شده باشد، کدام مورد به طور قطع، صحیح است؟

(۱) E رد شده است. (۲) G رد شده است. (۳) B قبول شده است. (۴) A قبول شده است.

۶۳- اگر F رد شده باشد، چند نفر از ۶ نفر دیگر، قبولی شان قطعی می شود؟

(۱) ۱ (۲) ۲ (۳) ۳ (۴) ۴

۶۴- اگر C رد ولی A قبول شده باشد، وضعیت کدام فرد زیر، از لحاظ قبولی یا ردی در مصاحبه، به طور قطع، مشخص نمی شود؟

٦٥- اگر F قبول و C رد شده باشد، کدام یک از موارد زیر، لزوماً صحیح است؟

\* A قبول شده است.

\*\* B رد شده است.

\*\*\* وضعیت A و D از لحاظ قبولی یا ردی مشابه است.

(٤) فقط \*\*

(٣) فقط \*

(٢) \* و \*\*

(١) \*\* و \*\*\*

## زبان انگلیسی عمومی

### Part A: Grammar and Vocabulary

**Directions:** Choose the word or phrase (1), (2), (3), or (4) that best completes each sentence. Then mark the correct choice on your answer sheet.

66- surely, the results of the tests must ..... before they are published.

- 1) check                      2) be checked                      3) have checked                      4) being checked

67- The new course leads to a diploma ..... By all major employers.

- 1) which has recognized                      2) which recognized  
3) recognized                      4) is recognized

68- we are quite busy today, but I'll see if I can ..... a meeting for sometime tomorrow morning.

- 1) arrange                      2) income                      3) communicate                      4) influence

69- (i r a n a r z e) It is generally quite difficult to raise a family on a single ..... in many countries.

- 1) culture                      2) income                      3) identity                      4) element

70- I've been calling Mary ..... all morning, but she doesn't answer. I guess she's at a meeting.

- 1) repeatedly                      2) suddenly                      3) finally                      4) totally

### Part B: Reading Comprehension

**Directions:** Read the following passage and select the choice (1), (2), (3), or (4) that best answers each question. Then mark your answer on your answer sheet.

Are you healthy? Before answering, think about what you understand by "health". It doesn't just mean freedom from disease. Health is a measure of how sound and vigorous both your body and mind are. A truly healthy person has a sense of physical and mental well-being. Our health is precious and easily damaged. But there is much we can do to maintain it. Eating well, exercising, and getting enough sleep all

help keep us healthy. Standards of health and health hazards are different from place. In some parts of the world, many people have many health problems because they are poor, hungry, and without clean drinking water. In other places, stress at work, lack of exercise, and too much food bring their own health problems, such as heart disease.

Food plays a large part in our health. A healthy diet includes fresh fruit and vegetables, meat, fish, bread, eggs, and milk, but not too many fatty, salty, or sugary. Good health also depends on regular exercise because it keeps as fit. Regular exercise improves blood circulation. Makes the heart and lungs work well, and keeps the strong and toned. It is good for the brain as well as the body. And makes on feet in start and a cool-down sequence at the end to prevent strain on muscles.

**71- Which of the following is the best title for the passage?**

- |                       |                       |
|-----------------------|-----------------------|
| 1) Healthy eating     | 2) physical Exercise  |
| 3) Standards of Heath | 4) Health and fitness |

**72- The word "precious" in paragraph 1 means .....**

- |            |            |             |              |
|------------|------------|-------------|--------------|
| 1) serious | 2) popular | 3) valuable | 4) important |
|------------|------------|-------------|--------------|

**73- The word "they" in paragraph 1 refers to .....**

- |                       |                    |
|-----------------------|--------------------|
| 1) people             | 2) health hazards  |
| 3) parts of the world | 4) health problems |

**74- The passage mentions all of the following as sources of health problem .....**

- |                                 |                   |
|---------------------------------|-------------------|
| 1) lack of clean drinking water | 2) stress at work |
| 3) too much eating              | 4) smoking        |

**75- According to the passage, regular exercise is good for .....**

- 1) blood circulation, muscles, and joints
- 2) blood circulation, muscles, and brain
- 3) heart, lungs, and joints
- 4) heart, lungs, and knees



سوال	پاسخ	سوال	پاسخ	سوال	پاسخ	سوال	پاسخ	سوال	پاسخ	سوال	پاسخ
۱	۳	۲۴	۲	۴۷	۲	۷۰	۱				
۲	۱	۲۵	۱	۴۸	۳	۷۱	۳				
۳	۲	۲۶	۱	۴۹	۲	۷۲	۳				
۴	۴	۲۷	۱	۵۰	۴	۷۳	۱				
۵	۱	۲۸	۲	۵۱	۳	۷۴	۴				
۶	۲	۲۹	۳	۵۲	۱	۷۵	۲				
۷	۴	۳۰	۲	۵۳	۱						
۸	۲	۳۱	۲	۵۴	۲						
۹	۲	۳۲	۴	۵۵	۱						
۱۰	۴	۳۳	۱	۵۶	۳						
۱۱	۳	۳۴	۱	۵۷	۴						
۱۲	۳	۳۵	۳	۵۸	۱						
۱۳	۲	۳۶	۱	۵۹	۴						
۱۴	۱	۳۷	۳	۶۰	۲						
۱۵	۲	۳۸	۴	۶۱	۳						
۱۶	۳	۳۹	۲	۶۲	۱						
۱۷	۳	۴۰	۱	۶۳	۳						
۱۸	۱	۴۱	۳	۶۴	۲						
۱۹	۲	۴۲	۲	۶۵	۴						
۲۰	۳	۴۳	۳	۶۶	۲						
۲۱	۱	۴۴	۳	۶۷	۳						
۲۲	۴	۴۵	۳	۶۸	۱						
۲۳	۲	۴۶	۴	۶۹	۲						